



Eğlenceli Etkinlik Kitabı

SAATLERİ ÖĞRENİYORUM

Zamanı Okumak Hiç Bu Kadar Eğlenceli Olmamıştı!



MEB Müfredatına %100 Uyumlu

Adı Soyadı: _____

Sınıfı / No: _____



SAATİ TANIYALIM

~ Akrep ve Yelkovan kimdir? ~

1 Saat üzerindeki parçaların isimlerini öğrenelim ve yanlarındaki boşluklara isimlerini yazalım.



★ Akrep Diyor ki:

"Ben kısa ve yavaş olanım! Saatin kaç olduğunu ben gösteririm. Hangi sayıyı gösteriyorsam saat odur!"

★ Yelkovan Diyor ki:

"Ben uzun ve hızlı olanım! Dakikaları ben sayarım. Eğer ben tam 12'nin üzerindeysen saat tamdır!"



GÖREVİMİZ SAAT

~ Öğrendiklerimizi pekiştirelim ~

2 Cümlelerdeki boşlukları uygun kelimelerle doldur ve aşağıdaki saatleri boy.

Akrep


Yelkovan

Saat

Dakika

1. Saatin üzerindeki KISA çubuğa _____ denir.
2. Saatin üzerindeki UZUN çubuğa _____ denir.
3. Akrep bize _____'i gösterir.
4. Yelkovan bize _____'yi gösterir.

Aşağıdaki boş saatlerin içine sayıları 1'den 12'ye kadar yerleştir.





TAM SAATLER

~ Saat tam kaç? ~

3 Tam saatlerde yelkovanın nerede durduğunu inceleyip öğren.

★ **DİKKAT!** ★

Yelkovan (uzun çubuk) tam 12'nin üzerindeyse, saat TAM'dır.
Akrep (kısa çubuk) hangi sayıyı gösteriyorsa saat odur!




Saat 3

03:00



Saat 8

08:00



Saat 12

12:00



SAAT KAÇ?

~ Tam saatleri okuma zamanı ~

4

Aşağıdaki saatlerin kaç olduğunu altlarındaki boşluklara hem yazıyla hem de dijital saat kutusuna rakamla yaz.




Saat: _____



Saat: _____




Saat: _____



Saat: _____



Saat: _____



Saat: _____



EŞLEŞTİRME

~ Doğru olanı bul ~

5 Analog (yuvarlak) saatler ile ortadaki dijital saatleri çizgi çizerek eşleştir.



07:00

05:00

11:00

02:00






SEN ÇİZ

~ Akrep ve Yelkovanı sen yerleştir ~

6

Aşağıda yazan saatlere göre boş saatlerin üzerine akrep ve yelkovan çiz. (Akrep kısa, yelkovan uzun unutma!)



04:00

Saat 4




10:00

Saat 10




07:00

Saat 7




03:00

Saat 3



12:00

Saat 12



06:00

Saat 6



YARIM SAATLER

~ Buçuk ne demek? ~

7 Yarım saatlerde yelkovanın nerede durduğunu inceleyin ve öğrenin.

★ DİKKAT! ★

Yelkovan (uzun çubuk) tam 6'nın üzerindeyse, saat YARIMDIR (Buçuk).
Akrep (kısa çubuk) iki sayının tam ortasıdır!



İki Buçuk

02:30



Altı Buçuk

06:30



Dokuz Buçuk

09:30



SAAT KAÇ?

~ Yarım saatleri okuma zamanı ~

8

Aşağıdaki buçuklu saatlerin kaç olduğunu boşluklara ve dijital kutuya yaz.



Saat: _____ buçuk



Saat: _____ buçuk



Saat: _____ buçuk



Saat: _____ buçuk



Saat: _____ buçuk



Saat: _____ buçuk



EŞLEŞTİRME

~ Buçukları eşleştir ~

9

Yarım (buçuklu) analog saatler ile dijital saatleri eşleştir.



08:30

03:30

05:30

10:30






SEN ÇİZ

~ Yarım saatleri çiziyoruz ~

10

Aşağıda yazan buçuklu saatlere göre akrep ve yelkovan çiz. Akrebi iki sayının ortasına çizmeyi unutma!



02:30

Saat 2 buçuk




09:30

Saat 9 buçuk



06:30

Saat 6 buçuk




11:30

Saat 11 buçuk



08:30

Saat 8 buçuk



04:30

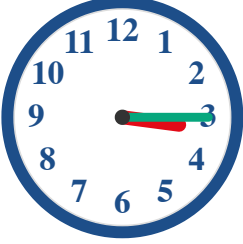
Saat 4 buçuk



ÇEYREK SAATLER

~ Geçe ve Kala ~

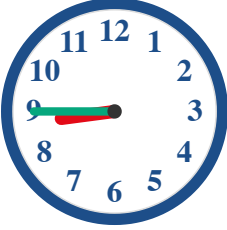
11 Çeyrek geçe ve çeyrek kala durumlarında yelkovanın nerede durduğunu öğrenelim.



Çeyrek Geçe (15 Geçiyor)

Yelkovan (uzun) tam 3'ün üzerindeyken saat çeyrek geçiyo demektir. Dijital saatte 15 olarak yazılır.

03:15



Çeyrek Kala (45 Geçiyor)

Yelkovan (uzun) tam 9'un üzerindeyken bir sonraki saate çeyrek var demektir. Dijital saatte 45 olarak yazılır.

08:45

(Okunuşu: Dokuz çeyrek var)

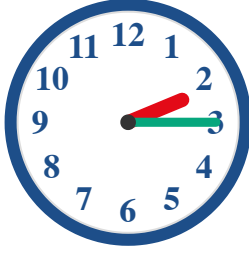


ÇEYREK GEÇE

~ Saat kaç çeyrek geçiyor? ~

12

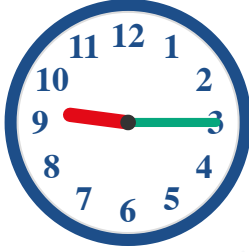
Aşağıdaki çeyrek geçen saatleri boşluklara okunuşları ve dijital halleriyle yaz.



Saat: _____



Saat: _____




Saat: _____



Saat: _____



Saat: _____



Saat: _____



ÇEYREK KALA

~ Saat kaç çeyrek var? ~

13

Aşağıdaki çeyrek kala saatlerini okunuşlarıyla ve dijital (45 geçe) halleriyle yaz.



Saat: _____



Saat: _____



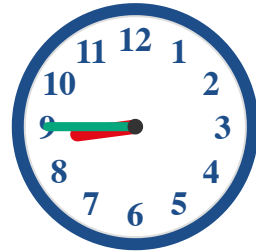
Saat: _____



Saat: _____



Saat: _____



Saat: _____




ÇEYREKLERİ ÇİZ

~ Akrep ve Yelkovan sende ~

14

Aşağıda okunuşları ve dijital halleri verilen saatlerin akrep ve yelkovanını sen çiz.



Dördü çeyrek geçe

04:15




Ona çeyrek var

09:45




Yediyi çeyrek geçe

07:15




Bire çeyrek var

12:45



İkiye çeyrek var

01:45



Beşi çeyrek geçe

05:15



GÜNLÜK RUTİNİM

~ Saatleri hayatta kullanma ~

15 Ahmet'in günlük rutinine göre saatlerin akrep ve yelkovanını çiz.




Uyanma ve Kahvaltı

Ahmet sabah **07:30**'da uyanır ve kahvaltı yapar.




Okula Gidiş

Ahmet saat tam **08:00**'da okul servisine biner.




Oyun Zamanı

Okuldan sonra saat **16:15**'te (Dördü çeyrek geçe) parkta arkadaşlarıyla oynar.



Uyku Zamanı

Akşam saat **21:00**'da (Dokuzda) dişlerini fırçalar ve uyur.



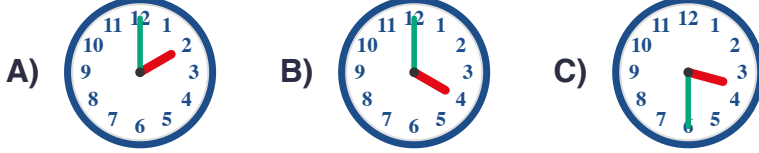


ZAMAN PROBLEMLERİ

~ Saatlerle matematik ~

16 Aşağıdaki problemleri dikkatlice oku ve doğru saati bulup işaretle.

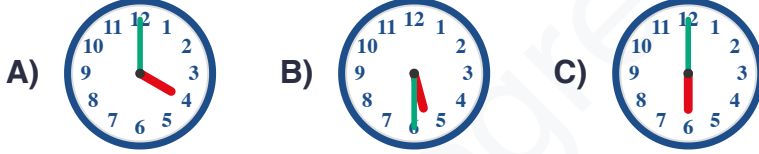
1. Şu an saat 03:00. Tam 1 saat sonra saat kaç olur?



2. Ders 09:30'da başlıyor. Ali okula 09:00'da geldi. Ali okula ne kadar erken gelmiştir?

A) Tam 1 Saat B) Yarım Saat C) Çeyrek Saat

3. Kek fırında 1 saat pişmelidir. Saat 05:00'te fırına koyulan kek saat kaçta çıkar?



4. Hangi saat "İkiyi çeyrek geçe"yi gösteriyor?




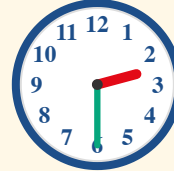


SAAT LABİRENTİ

~ Doğru yoldan git ~

17 Sadece 'BUÇUK' (yarım) saatleri takip ederek labirentten çıkışı bul.

↓ GİRİŞ



↓ ÇIKIŞ



GÖRSEL SAAT TESTİ 1

~ Dikkatlice bak ve seç ~

18

Aşağıdaki soruları dikkatlice oku ve doğru saati gösteren şıkkı işaretle.

1. Aşağıdaki saatlerden hangisi "Üç Buçuk"u (03:30) gösterir?

A)



B)



C)



2. Aşağıdaki saatlerden hangisi "Onu Çeyrek Geçe"yi (10:15) gösterir?

A)



B)



C)



3. Aşağıdaki saatlerden hangisi "Tam Yedi"yi (07:00) gösterir?


A)



B)



C)





GÖRSEL SAAT TESTİ 2

~ Saat Kaç? ~

19 Görseldeki saate bak ve altında yazan doğru saati yuvarlak içine al.



A) 08:00

B) 08:30

C) 09:30



A) 01:15

B) 03:05

C) 01:45



A) On Bire Çeyrek Var

B) On İkiye Çeyrek Var



ZAMANI HESAPLAMA TESTİ

~ İleri ve geri say ~

20 Verilen saate göre istenilen zamanı bul ve doğru saati işaretle.



1. Yandaki saatten YARIM SAAT sonra saat kaç olur?

A) 05:30 B) 06:00 C) 04:30



2. Yandaki saatten BİR SAAT önce saat kaçtı?

A) 10:30 B) 08:30 C) 08:00



3. Yandaki saatten ÇEYREK SAAT (15 dk) sonra saat kaç olur?

A) 01:45 B) 01:00 C) 01:30



4. Yandaki saatten İKİ SAAT sonra saat kaç olur?

A) 02:00 B) 10:00 C) 01:00




DİJİTAL VE ANALOG TESTİ

~ Saatleri eşleştir ~

21 Dijital saatlere karşılık gelen doğru analog saati bularak yuvarlak içine al.

1. **11:30** saati hangisidir?

A)



B)



C)



2. **04:45** saati hangisidir?

A)



B)



C)



3. **09:00** saati hangisidir?

A)



B)



C)






GENEL TEKRAR

~ Neler öğrendik? ~

22

Tüm saat türlerini bir arada görelim. Altlarına doğru saatleri yaz.





BAŞARI SERTİFİKASI

“Saatleri Öğreniyorum” etkinlik kitabını üstün bir gayret ve başarıyla tamamlayan

(Öğrencinin Adı Soyadı)

bu belgeyi almaya hak kazanmıştır. Zamanı artık çok iyi okuyorsun, tebrikler!

Tarih

Matematik Öğretmeni

Bahar Atalan